



25º ROTEIRO DE ATIVIDADES COMPLEMENTARES DE ESTUDO – COVID 19

ESCOLA MUNICIPAL “MARIA TEIXEIRA GEORG”

SALA DE RECURSOS MULTIFUNCIONAL- NÍVEL 2

PERÍODO DE REALIZAÇÃO: 03 A 06 /11/2020

ROLÂNDIA, _____ DE _____ DE 2020.

ALUNO (A): _____ TURMA: **S.R.M.**

PROFESSORA: _____

O QUE VAMOS ESTUDAR:

- ✓ Matemática: numeração (menor); geometria, sequência numérica, cálculos, operações, situações problemas.
- ✓ Área Cognitiva: atenção, concentração, memória, percepção e discriminação visual.
- ✓ Área Psicomotora: coordenação motora fina, visomotora e orientação espacial.
- ✓ Área Sócio- Emocional: criatividade, imaginação, motivação.

PARA QUE VAMOS ESTUDAR:

- Interpretar, resolver e realizar cálculos matemáticos, situações- problemas e atividades de numeração utilizando estratégias pessoais.
- Desenvolver atenção, concentração, memória, percepção, discriminação visual, além da coordenação motora fina, visomotora e orientação espacial.
- Incentivar o desenvolvimento e o raciocínio lógico do aluno ao realizar atividades com figuras geométricas e quebra- cabeça.
- Valorizar o lúdico como proposta educativa.

COMO VAMOS REGISTRAR O QUE APRENDEMOS:


- ★ As atividades propostas devem ser realizadas no papel impresso, podendo ser coladas em um caderno, folha sulfite ou guardadas em um envelope, sendo entregues para a professora quando solicitadas.

ATIVIDADE 1

OBA!!! MOMENTO CONECTADO:

- ★ Se você tem computador em casa com acesso à internet, peça autorização para seu responsável e jogue “Quebra - Cabeça”. (Encaixe-Perfeito).

<https://www.geniol.com.br/raciocinio/encaixe-perfeito/facil/>





ATIVIDADE 2

Mickey fez um delicioso almoço, com 10 bifés, para receber seus amigos. Sendo que duas pessoas comeram 3 bifés e uma comeu 2. Agora responda:



a) Quantos bifés comeram todos no total?

b) Quantos sobraram?



PINÓQUIO GANHOU DE SEU AMIGO GRILO, MAIS FIGURINHAS PARA A SUA COLEÇÃO. SE ELE GANHOU MAIS 6 FIGURINHAS, COM QUANTAS FIGURINHAS PINÓQUIO FICOU?

(A) 14
(B) 15
(C) 16



OLHANDO O RÁDIO DO GEPETO, VEMOS A FORMA DE UM:

(A) TRIÂNGULO
(B) CIRCULO
(C) RETÂNGULO




COMPLETE A SEQUÊNCIA:

45	46				50	51
----	----	--	--	--	----	----

MARQUE A ALTERNATIVA QUE COMPLETA A SEQUÊNCIA:

(A) 48-49-50
(B) 37-38-39
(C) 47-48-49




VEJA A TABELA E RESPONDA:

CARRINHOS	16
PIÕES	15
BOLAS	14

QUAL É O BRINQUEDO QUE PINÓQUIO TEM EM MENOR QUANTIDADE?

(A) CARRINHOS
(B) PIÕES
(C) BOLAS





ATIVIDADE 3

